

机密★启用前

江西省 2024 年初中学业水平考试

道德与法治·历史试题卷(合卷)

说明:1. 本试题卷分道德与法治和历史两部分,满分 160 分,考试时间 150 分钟。

2. 请按试题序号在答题卡相应位置作答,答在试题卷或其它位置无效。

道德与法治部分(共 80 分)

一、单项选择题(本大题共 18 小题,每小题 2 分,共 36 分)

在每小题列出的四个备选项中只有一项是最符合题目要求的,请将其代码填涂在答题卡相应位置。错选、多选或未选均不得分。

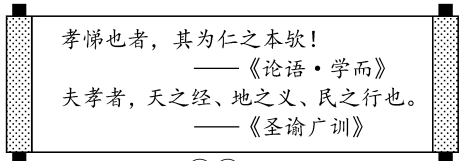
1. 2023 年 10 月 12 日,中共中央总书记、国家主席、中央军委主席习近平在江西省南昌市主持召开了一场聚焦区域协调发展的座谈会。这场座谈会是
- A. 新时代推动西部大开发座谈会 B. 深入推进长三角一体化发展座谈会
C. 新时代推动中部地区崛起座谈会 D. 进一步推动长江经济带高质量发展座谈会
2. 2023 年 10 月在北京召开的全国宣传思想文化工作会议最重要的成果,就是正式提出和系统阐述
- A. 习近平法治思想 B. 习近平文化思想 C. 习近平外交思想 D. 习近平强军思想

3. 下列时事能佐证“2023 年,我国航空航天领域取得丰硕成果”这一观点的是

- ①2023 年 5 月 28 日,C919 大型客机完成首次商业飞行
②2023 年 9 月 28 日,首条时速 350 公里跨海高铁——福厦高铁正式开通运营
③2023 年 10 月 26 日,神舟十七号载人飞船发射成功
④2023 年 11 月 4 日,国产首艘大型邮轮“爱达·魔都号”正式命名交付
- A. ①③ B. ①④ C. ②③ D. ②④

4. 右边古训印证了

- ①中华优秀“孝”文化源远流长
②孝亲敬长是中华传统美德
③尽孝就要采纳父母全部意见
④孝亲敬长是公民的法定义务
- A. ①② B. ①③ C. ②④ D. ③④



5. 小陈同学多次参加全国、省市田径比赛,在比赛中一次次突破自我,屡获佳绩。荣誉的背后,是她成百上千个日夜的“奔跑”,更饱含了太多不为人知的“跌倒”。这启示我们要

- ①正确认识自己,克服自卑心理 ②增强生命韧性,绽放生命精彩
③不断激发潜能,做更好的自己 ④重视他人评价,检视自身不足
- A. ①③ B. ①④ C. ②③ D. ②④

6. 以下禁毒宣传“三句半”意在告诫青少年应当

甲:有些少年讲派头,
乙:不三不四滥交友,
丙:盲目跟风染毒瘾,
丁:糟透!

甲:误入歧途吸毒品,
乙:坑了父母害家庭,
丙:废了身体毁前程,
丁:要命!

甲:鸦片冰毒海洛因,
乙:样样都是害人精,
丙:遏制毒品防蔓延,
丁:除尽!

- ①强化监督,严格执法 ②谨慎交友,不染恶习
③珍爱生命,远离毒品 ④抵制诱惑,否定一切
- A. ①② B. ①④ C. ②③ D. ③④

7. 中铁四局雅万高铁项目部青年突击队凝聚成员智慧与力量,团结协作、攻坚克难,取得突出成绩,被共青团中央、全国青联授予第二十八届“中国青年五四奖章集体”。由此可见
- ①个人的力量微不足道
②集体中既有协作也有冲突
③集体的力量是强大的
④集体荣誉需你我共同奋斗
- A. ①②
B. ①③
C. ②④
D. ③④


8. 2023年11月30日,江西省十四届人大常委会第五次会议表决通过《江西省鄱阳湖流域总磷污染防治条例》,自2024年1月1日起施行。这是全国首部湖泊总磷污染防治的省级地方性法规。这体现了

- ①江西高度重视人与自然和谐共生
②人民代表大会是我国根本政治制度
③法律是由国家强制力保证实施的
④江西省人大常委会行使地方立法权

- A. ①③
B. ①④
C. ②③
D. ②④

9. 右边漫画主旨与以下宪法规定相契合的是

- A. 国家尊重和保障人权
B. 公民有劳动的权利和义务
C. 国家保护社会主义的公共财产
D. 公民的通信自由和通信秘密受法律的保护



10. 孔某在一餐饮公司扫码点餐时,被该公司强制获取个人信息且无法自行删除。孔某将该公司告上法庭,法院判决该公司删除孔某个人信息,向孔某书面赔礼道歉并赔偿相关费用。对此分析正确的是

- A. 孔某的名誉权受到了不法侵害
B. 餐饮公司的行为是行政违法行为
C. 孔某依法维护了自身合法权益
D. 人民法院依法独立行使了检察权

11. 某市人社局将劳动关系矛盾化解与精准就业服务有机衔接,通过“案结事了”有效避免和化解矛盾纠纷,通过“精准帮扶”解决失业人群的就业出路。这有利于

- ①构建和谐劳动关系
②引发传统职业变革
③维护社会公平正义
④行政机关公正司法

- A. ①②
B. ①③
C. ②④
D. ③④

12. 粮食安全是国家安全的重要组成部分。朱某某向境外违规大量出卖我国优质亲本稻种,构成“为境外非法提供情报罪”,被判处有期徒刑1年6个月。该案例带来的警示是

- ①个人的正当利益应受到法律保护
②要自觉履行维护国家安全的法定义务
③任何违法行为都应受到刑罚处罚
④要树立国家安全利益高于一切的观念

- A. ①②
B. ①③
C. ②④
D. ③④

13. 2024年4月26日,教育部会同公安部、国家消防救援局等部门召开全国中小学幼儿园安全工作视频会议。会议指出,要深入实施学生欺凌防治专项行动,对所有中小学校开展一次“起底式”大排查。材料体现出

- ①我国完善未成年人保护的法律法规
②多方协同能确保未成年人免受伤害
③国家关心和重视未成年人健康成长
④政府依法履行保护未成年人的职责

- A. ①②
B. ①④
C. ②③
D. ③④

14. 2023年8月,国务院印发《关于进一步优化外商投资环境 加大吸引外商投资力度的意见》,提出6方面24条政策措施。这表明

- A. 国有经济是国民经济的主导力量
B. 我国毫不动摇巩固和发展公有制经济
C. 政府在资源配置中起决定性作用
D. 国家鼓励、支持、引导非公有制经济发展

15. 2024年国务院政府工作报告指出,过去一年,提高“一老一小”个人所得税专项附加扣除标准,6600多万纳税人受益。加强城镇老旧小区改造和保障性住房供给,惠及上千万家庭。对上述内容概括最全面的是

- A. 最是——年好风景,民生福祉开心颜
B. 安得广厦千万间,大庇居民俱欢颜
C. 天生我材必有用,创新敢为天下先
D. 水光潋滟晴方好,营商环境日日新

16. 最近,以藜蒿炒腊肉、莲花血鸭、赣南小炒鱼等为代表的“江西小炒”火出了圈。“江西小炒”是“老乡见老乡”时不可或缺的餐叙元素,也是一种情感纽带和民间文化载体。“江西小炒”
- ①承载着江西人民的情感认同
②是全国各族人民的精神纽带
③已成为江西文化的唯一代表
④展现出饮食文化的多姿多彩
- A. ①③ B. ①④ C. ②③ D. ②④
17. 2024年是大学生志愿服务西部计划实施20周年。20年来,50余万名高校毕业生奔向西部边疆地区、民族地区,让青春之花绽放在祖国最需要的地方。该计划的实施有利于
- ①完善民族区域自治制度
②铸牢中华民族共同体意识
③增进对和平统一的认同
④大学生志愿者实现人生价值
- A. ①② B. ①③ C. ②④ D. ③④
18. 当地时间2024年5月6日,国家主席习近平同法国总统马克龙共同会见记者时指出,中国愿同包括法国在内的世界各国一道,在相互尊重的基础上发展友好合作关系,携手前行、共担风雨、共创未来。这表明中国
- ①推动构建人类命运共同体
②积极发挥负责任大国作用
③已成为世界经济增长引擎
④主动参与全球规则的制定
- A. ①② B. ①④ C. ②③ D. ③④

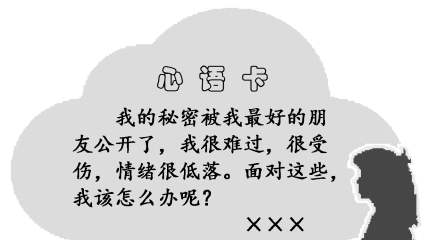
二、简要回答(本大题共2小题,每小题6分,共12分)

简明扼要,条理清楚。

19. 阳光心理社、机器人社、篮球社、合唱社、蔬菜种植社……为响应“双减”政策,助力学生全面发展,学校开展了丰富多彩的社团活动。

▲阳光心理社成员常倾听同学们的心声,并给予他们帮助和关怀。某天,阳光心理社收到了一位同学的“心语卡”(见右图)。

- (1)假如你是该社成员,请为这位同学提供解决烦恼的合理建议。(4分)



▲学校倡议同学们创建更多类型的社团,大家热情响应。

- (2)你打算与志同道合的师长和伙伴创建一个公益类社团,需草拟社团章程。请填写以下内容。(2分)

社团章程

社团名称: _____

社团宗旨: _____

.....

20. 某社区居委会组织居民代表参与“民生议事堂”议事活动,商讨落实“禁止电动自行车进楼入户”事项。

◎**居委会主任**:我国《高层民用建筑消防安全管理规定》要求,禁止在高层民用建筑公共门厅、疏散走道、楼梯间、安全出口停放电动自行车或者为电动自行车充电。然而,仅过去的一年,各地因电动自行车进楼入户就引发多起火灾事故,造成重大人员伤亡和财产损失。我们社区仍存在电动自行车进楼入户的现象,治理刻不容缓!

◎**甲代表**:我非常赞同,这样可以消除消防安全隐患。

◎**乙代表**:我们小区充电桩不足,希望居委会协调解决。

.....

经过商讨,大家在严格执行“禁止电动自行车进楼入户”、加装充电桩等方面达成共识。

- 请你运用所学知识,分析此次议事活动的意义。(6分)

三、概括与评析(共 12 分)

21. 结合材料,自拟题目,运用所学知识进行多角度评论。

▲近年来,许多自媒体借助网络平台传播正能量:传播善举,播撒真情;线上讲堂,传播科学;直播带货,助农兴农……然而,也有自媒体为了流量自导自演式造假、不择手段蹭炒社会热点、以偏概全设置话题,严重污染网络环境,对社会稳定造成潜在威胁。

▲中央网信办贯彻落实习近平总书记关于网络强国的重要思想,在全国范围内开展“清朗·整治‘自媒体’无底线博流量”专项行动,集中整治群众反映强烈的突出问题。这是营造风清气正网络空间的重要举措,释放出自媒体不是“自由体”的强烈信号。

▲只有坚守底线,流量才能长久,自媒体之路才能越走越远。自媒体要把落实此次专项行动要求当作应尽之责、分内之事,大力弘扬正能量,讲好时代好故事,传播网络好声音,共同营造一个健康、和谐、积极向上的网络空间。

(1)拟题:运用所学知识,自拟一个体现材料主要内容的题目。(3分)

题目:_____

(2)评论:从不同的角度对上述材料进行分析评论。(每一角度3分,共9分)

四、探究与实践(本大题共 2 小题,共 20 分)

紧扣题意,综合运用所学知识进行探究与实践。

22. (8分)红色、绿色、古色是江西的三张亮丽名片。某班开展了以“领略赣鄱魅力,赓续红色血脉”为主题的研学活动。

【领略赣鄱魅力】为丰富研学体验,增强育人效果,本次研学须涵盖红色、绿色、古色三类资源。

(1)请你依据右侧资源分布图,从绿色、古色两类资源中各选其一填入下列空格并说明选择理由。

资源名称:革命纪念馆+ _____ + _____ (2分)

选择理由: _____

_____。(2分)



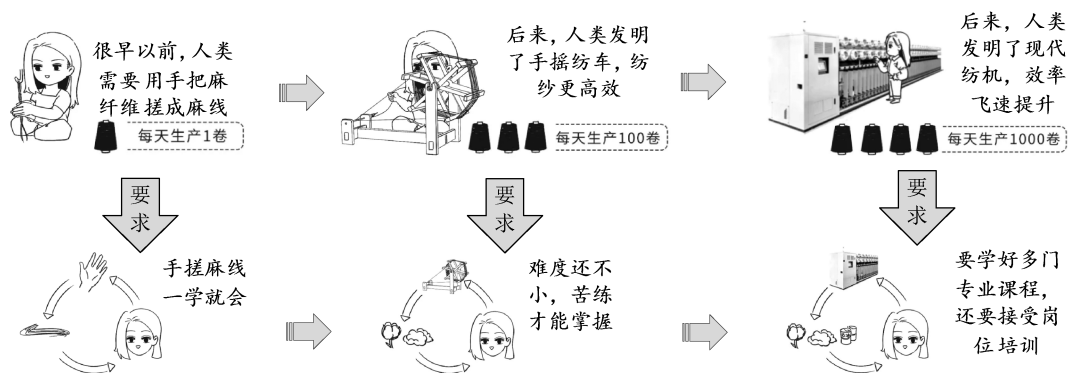
【赓续红色血脉】同学们在研学活动中收获颇丰,最难以忘怀的还是在革命纪念馆齐诵刘伯坚烈士家书的场景:“弟准备牺牲,生是为中国,死是为中国,一切听之而已……我为中国革命没有一文钱的私产……为着中国民族就为不了家和个人”。每每想起,同学们依然心潮澎湃,深受鼓舞,纷纷表示:要铭记先烈,接续奋斗,勇担时代重任!

(2)伟大精神永放时代光芒。请你阐释刘伯坚烈士家书蕴含的时代价值。(4分)

23. (12分) 习近平总书记强调,发展新质生产力是推动高质量发展的内在要求和重要着力点。为加深对新质生产力的认识,某班学习小组开展了探究式学习活动。

【迭代升级 向“质”提升】下面是学习小组查找到的一组图片。

劳动工具发展及对劳动者要求示意图



(1) 从上述图示中能概括出哪些结论?(4分)

【科技赋能 向“新”前行】学习小组围绕“如何发展新质生产力”搜集到以下典型案例。

面对全球汽车产业的激烈竞争,中国车企大胆变革传统燃油车发展路径,自主研发出世界一流的电动和混动技术,大力生产电动化、智能化的新能源汽车,在海外构建研发中心、生产基地、营销中心。中国车企成功实现换道超车,新能源汽车产销量位居全球第一。

(2) 请结合材料,并运用所学知识分析中国车企采取了哪些有力措施实现换道超车?(4分)

【面向未来 向“能”发力】通过此次探究学习,小组成员认识到,更高素质的劳动者是新质生产力的第一要素。

(3) 作为新时代的劳动者,我们应为未来“储能”,去适应新质生产力发展的要求。请写下你的“储能”行动宣言。(4分)

要求:紧扣主题,价值观正确,逻辑合理,表述清晰,不少于60字。

“储能”行动宣言

当下,新质生产力正加速形成,对我们既是机遇,也是挑战。要成为德才兼备的高素质劳动者,我将_____。

历史部分(共 80 分)

一、单项选择题(本大题共 20 小题,每小题 2 分,共 40 分)

在每小题列出的四个备选项中只有一项是最符合题目要求的,请将其代码填涂在答题卡相应位置。错选、多选或未选均不得分。

1. 图 1 是甲骨文中的“史”字:“一个人手里拿一块用来记录的板,两只脚叉开站着”,指负责记录事情的人。“史”字的造字方法是

- A. 象形 B. 指事 C. 形声 D. 假借



图 1

2. 下面是七年级同学编写的历史剧本《朝会》。该剧本中始皇认同的制度是

丞相王绾:今陛下一统天下,疆域辽阔,请分封诸子以拱卫王室。

廷尉李斯:武王分封子弟甚众,诸侯互相攻击,而天子不能禁止。今海内赖陛下神灵一统,皆为郡县,置诸侯不便。

始皇嬴政:廷尉所言甚是。

- A. 分封制 B. 郡县制 C. 刺史制 D. 行省制

3. 今天日本的邮政地址,还是沿袭唐制,以町、番、目为单位。这从侧面反映了唐朝

- A. 严格的坊市界限 B. 丰富的都市生活
C. 开放的社会风气 D. 先进的典章制度

4. 不论以魏为正统,或以蜀为正统,从来没有人把另外两国排斥在中国之外;当宋、辽、西夏或宋、金、西夏并存时,虽互为敌国,但也并不把对方排除在中国之外。这一观点意在强调

- A. 中华民族的认同感 B. 中央集权不断强化
C. 儒家思想的正统性 D. 民族隔阂完全消失

5. 元朝设立宣政院,掌管全国佛教事务,同时兼管地方,设置三路宣慰司,管理军务、民事或兼管军民。宣政院兼管的地方是

- A. 新疆 B. 西藏 C. 云南 D. 台湾

6. 作品曲文流丽,人物内心描写细致,通过杜丽娘和柳梦梅的故事,批判了吃人的封建礼教,强烈要求个性自由,堪称明朝戏曲之冠。该作品是

- A. 《窦娥冤》 B. 《长生殿》
C. 《牡丹亭》 D. 《红楼梦》

7. 图 2 是清朝中期的人口数量和人均耕地面积对比图。这反映了清朝中期

- A. 人地矛盾突出
B. 农业生产恢复
C. 阶级矛盾激化
D. 土地兼并严重

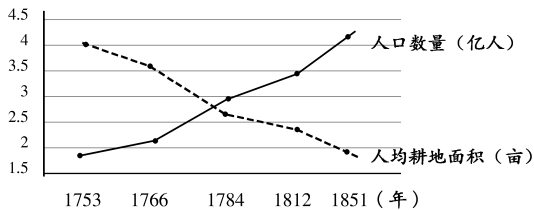


图 2

8. 19 世纪 60 年代,李鸿章与一批官僚开始“察吏、整军、筹饷、辑夷”各事,《清史稿》将他看作“中兴之臣”。与“中兴之臣”评价相符的是

- A. 领导禁烟运动 B. 倡导自强求富
C. 签订《马关条约》 D. 发起公车上书

9. 1923 年 1 月,孙中山和苏联代表越飞达成一项联合宣言:苏维埃政府再次确认有关放弃在华的特权与利益。这一宣言

- A. 确立了三民主义 B. 标志着中国共产党的成立
C. 促进了国共合作 D. 表明社会主义阵营的形成

10. 图3是江西民歌《请茶歌》的部分内容。



图3

由歌词可判断当时中国革命的方向是

- A. 走实业救国道路
- B. 领导工人运动
- C. 夺取中心城市
- D. “工农武装割据”

11. 图4是1934年创作的漫画《枕戈待旦——蓄志复国仇，岂分男女性》。对其解读正确的是



图4

- A. 辛亥革命, 推翻清朝统治
- B. 护国战争, 反对复辟帝制
- C. 团结抗日, 抵御外来侵略
- D. 避免内战, 争取国内和平

12. 基于各主要的解放区相继连成一片, 为了从根本上打倒国民党反动政府, 人民解放军就必须攻击敌人坚固设防的大城市, 必须同敌人的强大机动兵团作战。于是发起

- A. 湘江战役
- B. 淞沪会战
- C. 百团大战
- D. 三大战役

13. 以下是某同学整理的历史笔记, 他学习的主题是

| | |
|-------|-----------------|
| 1953年 | 周恩来首次提出和平共处五项原则 |
| 1955年 | 中国代表团参加亚非会议 |
| 1964年 | 中法正式建立外交关系 |
| 1971年 | 中国恢复在联合国的合法席位 |

- A. 独立自主的和平外交
- B. “求同存异”的外交方针
- C. 睦邻友好的外交政策
- D. 全方位多层次的外交布局

14. 图5是1978年和1987年的国有企业留利(政府留给国有企业的利润)占比变化示意图。这一变化有利于

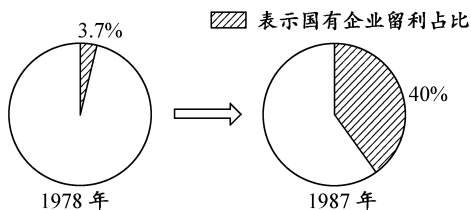


图5

- A. 增强国有企业的活力
- B. 完善平均分配方式
- C. 确立社会主义公有制
- D. 建立计划经济体制

15. 柏拉图认为, 古埃及人的激情更多是追求物质的富饶, 他们没有希腊人这种对知识的热爱。能佐证该观点的是

- A. 埃及建立种姓制度
- B. 埃及法学系统完整
- C. 希腊发展海外贸易
- D. 希腊哲学成就突出

16. 穿越时空来到中世纪欧洲的大学, 你可能看到

- A. 庄园法庭处理内部纠纷
- B. 学生学习天文知识
- C. 学生公开宣扬异端言论
- D. 师生讨论《进化论》

17. 1688年, 英国结束了长期危机, 在这一危机中英国人经过不懈斗争, 获得了自由政治。材料中的“斗争”指英国

- A. 对外殖民扩张
- B. 争夺欧洲霸权
- C. 资产阶级革命
- D. 爆发宪章运动

18. 1930年, 印度甘地号召向“食盐进军”, 带领民众到丹迪海边自取海水制盐, 反对英国殖民当局垄断食盐生产。与材料相关的历史事件是

- A. 印度民族大起义
- B. 华夫脱运动
- C. 非暴力不合作运动
- D. 不结盟运动

19. 1940年,斯大林迫切地敦促人民缩小与西方在生产力方面的差距,“放慢速度意味着落后,落后意味着挨打!”斯大林如此迫切是为了
- A. 实行战时共产主义政策
B. 应对法西斯的扩张
C. 完成第一个五年计划
D. 推动东欧各国改革
20. 20世纪50年代到60年代初,法国、联邦德国和意大利等经历了“经济奇迹”,发展为稳固的中产阶级福利国家。“经济奇迹”缘于
- A. 非军事化的实行
B. 欧洲的联合
C. “经互会”的成立
D. 欧盟的建立

二、综合题(本大题共4小题,共40分)

21. (10分)“洛邑从来天地中”,某中学历史社团制作了宣传洛阳的网页,共有四大栏目。浏览栏目内容,回答问题。

http://www.lishishetuan.com

栏目一 佛教圣地



东汉明帝时,佛经被运载到洛阳,佛教得到上层统治阶级扶持,洛阳成为佛教文化圣地,相关历史遗迹有①。

http://www.lishishetuan.com

栏目二 富盛古都



自晋宋以来,号洛阳为荒土,尽是夷狄。昨至洛阳,始知衣冠士族,并在中原,礼仪富盛,人物殷阜。

——[东魏]杨衒之《洛阳伽蓝记》

http://www.lishishetuan.com

栏目三 运河中心



洛阳“控以三河,固以四塞”,成为大运河的交通中心,经济日益繁荣。

http://www.lishishetuan.com

栏目四 丝路洛阳



洛阳是丝绸之路的东方起点之一,洛阳“丝路电商”对接会成为2024郑州跨境电商大会的亮点。

- (1) 浏览栏目一并结合所学知识,填写①处内容。(2分)
- (2) 浏览栏目二并结合所学知识,分析洛阳成为“衣冠士族”之地的原因。(4分)
- (3) 浏览栏目三,概括大运河对洛阳产生的影响。(2分)
- (4) 浏览栏目四并结合所学知识,请为丝路洛阳的经济发展提出合理建议。(2分)

22. (8分)“名片”是文明的载体,蕴含着丰富的时代信息。阅读材料,回答问题。

材料一




图6 宋朝的中国名片

(1)根据图6并结合所学知识,整体分析宋朝的中国名片对欧洲的影响。(2分)

材料二



图7 20世纪50-70年代的中国时代名片



图8 21世纪初的中国时代名片

(2)从图7和图8中各选一张有关联的时代名片,结合所学自定一个观点,加以阐述。(要求:观点正确,史论结合,条理清楚)(6分)

23. (10分)人类不断向未知世界探索,世界大了,世界也小了。阅读材料,回答问题。

材料一 1529年,里贝罗绘制的《世界地图》,囊括迄今所知一切地方,翔实绘制了欧洲、非洲、中南美洲的海岸线和岛屿,首次展现了太平洋的真实跨度和连续的北美洲海岸线。

——摘编自席会东《皇家秘图的帝国掠影》

(1)根据材料一并结合所学知识,指出地图绘制范围的扩大源于哪一历史事件。请从世界联系的角度评价这一事件。(4分)

材料二 美国“阿波罗11号”飞船驾驶员迈克尔·柯林斯基说道:“我在1969年飞向月球,当我看到眼前小到可以用大拇指盖住的地球,不禁笑了起来。”

——摘编自齐世荣《世界史丛书》

(2)根据材料二并结合所学知识,分析1969年美国飞船飞向月球的背景。(2分)

材料三 21世纪初,电子通信等技术极大消除了时空隔阂,资本、技术、信息、劳动力等跨国流动成为常态,各国成为全球共同利益链条上的一环,世界变成一个小小的“地球村”。

——摘编自杰里·本特利《新全球史》

(3)根据材料三并结合所学知识,写出“地球村”所呈现的世界经济发展趋势。(2分)

(4)综合上述材料,归纳人们对地球认知发生变化的主要因素。(2分)

24. (12分)光是人类生存之源,是人类前行的向导。阅读材料,回答问题。

【生命之光】

材料一 半坡人的房屋主要是半地穴式圆形房屋,图9是半坡人建造过程中“烧烤地面,做防潮处理”的想象图。



图9

——张礼智《被唤醒的史前村庄——半坡寻遗》

(1)根据材料一并结合所学知识,简述火的使用对人类发展的意义。(2分)

【理性之光】

材料二 新文化的倡导者们高举科学与民主两面大旗,用近代科学理性反对传统的实用理性,用近代人文主义反对传统的仁礼禁忌,力图建立以自我为价值主体的宇宙观和人生观,并以之取代以家庭为本位的传统观念。

——摘自陈旭麓《近代中国社会的新陈代谢》

(2)根据材料二并结合所学知识,归纳新文化运动的内容。(4分)

【庶民之光】

材料三

| 时间 | 法律文献 | 部分内容 |
|-------|------------------|---|
| 1949年 | 《中国人民政治协商会议共同纲领》 | 由中国共产党、各民主党派、各人民团体、各地区、人民解放军、各少数民族、国外华侨及其他爱国民主分子的代表们所组成的中国人民政治协商会议,就是人民民主统一战线的组织形式。 |
| 1954年 | 《中华人民共和国宪法》 | 中华人民共和国全国人民代表大会是最高国家权力机关。 |
| 1984年 | 《中华人民共和国民族区域自治法》 | 民族区域自治是在国家统一领导下,各少数民族聚居的地方实行区域自治,设立自治机关,行使自治权。 |

(3)指出材料三所体现的民主政治制度。(4分)

【命运之光】

材料四 构建人类命运共同体,是洞察世界大势、汲取历史教训的重大创见。只有尊重世界的多样性和各国人民自主选择发展道路的权利,推动构建相互尊重、公平正义、合作共赢的新型国际关系,推动构建人类命运共同体,才能真正实现人类的共同理想。

——摘自杨洁篪《推动构建人类命运共同体,共同建设更加美好的世界》

(4)综合上述材料,谈谈你对“光”内涵的认识。(2分)